

# BALADES LUDIQUES POUR PETITS ET GRANDS

**Puylaroque**



© Pays Midi-Quercy



**Visiter,  
se balader,  
s'amuser!**

Office de Tourisme intercommunal du Quercy Caussadais :  
Bureau d'information de Caussade  
Carré des Chapeliers  
05 63 26 04 04  
[tourisme@quercycaussadais.fr](mailto:tourisme@quercycaussadais.fr)

Bureau d'information de Montpezat-de-Quercy  
Bd des fossés  
05 63 02 05 55  
[contact@tourisme-montpezat-de-quercy.com](mailto:contact@tourisme-montpezat-de-quercy.com)

Facile



3,6 km

1 h 45

# Puylaroque

Départ : Château d'eau de Puylaroque

GPS : 44.255452N / 1.609658E

**Puylaroque « Pella Roca » est un ancien village fortifié dont l'histoire reste mal connue. En 940, le testament d'un religieux cite Puylaroque.**

C'est après la prise et la destruction en 1209 de Puylaroque par les croisés que le village se construit et se développe. Entre 1360 et 1369 le Quercy est aux Anglais. Pendant les guerres de religion le village est successivement aux catholiques puis aux protestants. En 1648 a été dressé le premier cadastre du village

et l'église St Jacques devient paroisse. La seigneurie est érigée en marquisat en 1682.

En 1808, Puylaroque, qui est alors dans le Lot, passe dans le Tarn-et-Garonne qui vient d'être créé. Entre 1865 et 1880, le village compte 1800 habitants.

Après s'être dépeuplé, Puylaroque accueille maintenant une population jeune et dynamique, confiante en l'avenir du village.

## Carnet de route

*Soyez vigilants avec vos enfants notamment sur les zones non piétonnes. Le parcours s'effectue sous votre entière responsabilité. L'Office de Tourisme et la société Randoland déclinent toute responsabilité en cas d'accident.*

Débuter la balade au pied du château d'eau ①.

Prendre le chemin qui descend le long des maisons puis longer les vignes ②.

Juste après la barrière observer l'arbre fruitier ③.

Continuer, puis remonter par le chemin pour arriver sur la route, prendre à droite et aller observer la croix ④.

Continuer jusqu'au croisement avec la

départementale. S'arrêter pour observer la bouteille signalant l'exploitation vinicole ⑤.

Traverser pour prendre le chemin en face, puis prendre à gauche sur la route. Avant la maison, prendre à droite pour passer en dessous ⑥.

Descendre jusqu'au point d'eau puis remonter tout droit à travers les plantations ⑦.

Récupérer le chemin en haut à gauche,

puis la petite route pour remonter. Au premier croisement, prendre à droite puis continuer jusqu'au croisement avec la départementale pour observer le paysage ⑧.

Prendre à gauche sur la route pour retourner au parking.

Prévoir un chapeau, de la crème solaire, de l'eau et un stylo pour chaque enfants.







# Puylaroque

L'inspecteur Rando fait les vendanges, il doit rejoindre le tracteur.  
Mais quel parcours va-t-il emprunter ?

Grâce aux informations de la page suivante, trace le chemin parcouru par l'inspecteur Rando.  
Attention, il emprunte toujours le chemin le plus court et ne fait jamais demi-tour !  
Chaque fois que l'inspecteur Rando trouvera une grappe de raisin sur son passage, colorie, dans l'ordre, la frise en bas de page. En fin de parcours, note dans la case réponse le nombre de grappes coloriées.



10 grappes de raisin alignées, chacune au-dessus d'un chiffre de 1 à 10.

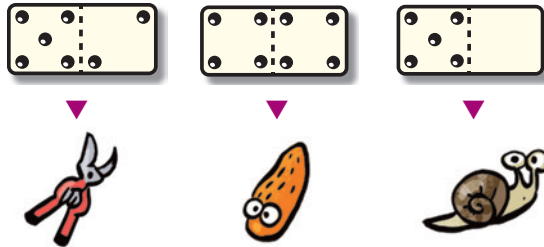
Ta réponse





### 1 Le château d'eau

Combien de côtés a le château d'eau ?  
Tu vas découvrir la première étape de l'Inspecteur Rando.



### 2 La plantation

Quel fruit pousse dans cette plantation ?




### 3 L'arbre fruitier

Quel fruit produit l'arbre à droite juste après la barrière ? (S'il n'y en a pas dans l'arbre, regarde au sol)



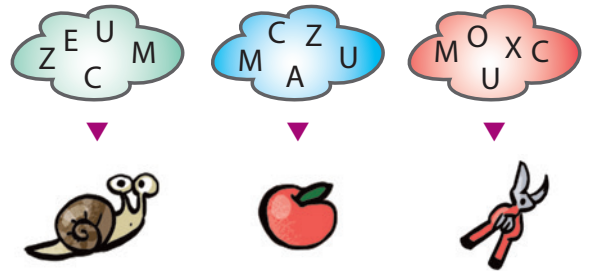
### 4 La croix

Parmi les trois photos ci-dessous laquelle correspond à la croix devant toi ?




### 5 La bouteille

Quel nuage de lettres te permet de reconstituer le nom de domaine inscrit sur la bouteille ?



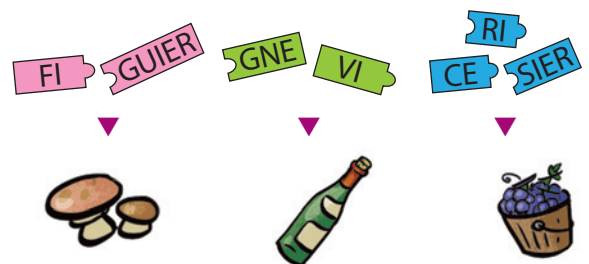
### 6 La maison

Laquelle des trois photos ci-dessous n'a pas été retouchée ?




### 7 La plantation

Quelle étiquette te permet de reconstituer le nom des plantes qui poussent sur ce terrain ?



### 8 Le point de vue

Parmi les trois photos ci-dessous laquelle correspond au point de vue devant toi ?





## ÉNIGME

Le Quercy est une région où la vigne est très présente. Le climat est partagé entre l'influence de l'Atlantique et celle de la Méditerranée, ce que le chant des cigales ne manque pas de rappeler dans la chaleur de l'été. Les vignerons produisent des vins rouges hauts en couleur, souples et charnus, aux arômes de fruits mûrs, avec de subtiles nuances épicées. Quant aux vins rosés, ils sont frais et fruités, possédant des notes de fruits rouges et de fleurs blanches.

Le cépage\* principal des vins des Coteaux du Quercy est associé avec du Malbec, du Merlot, du Tannat et accessoirement du Gamay. Mais quel est le cépage principal ?

Avec l'aide de l'inspecteur Rando, sauras-tu retrouver le nom du cépage principal des vins des Coteaux du Quercy ?

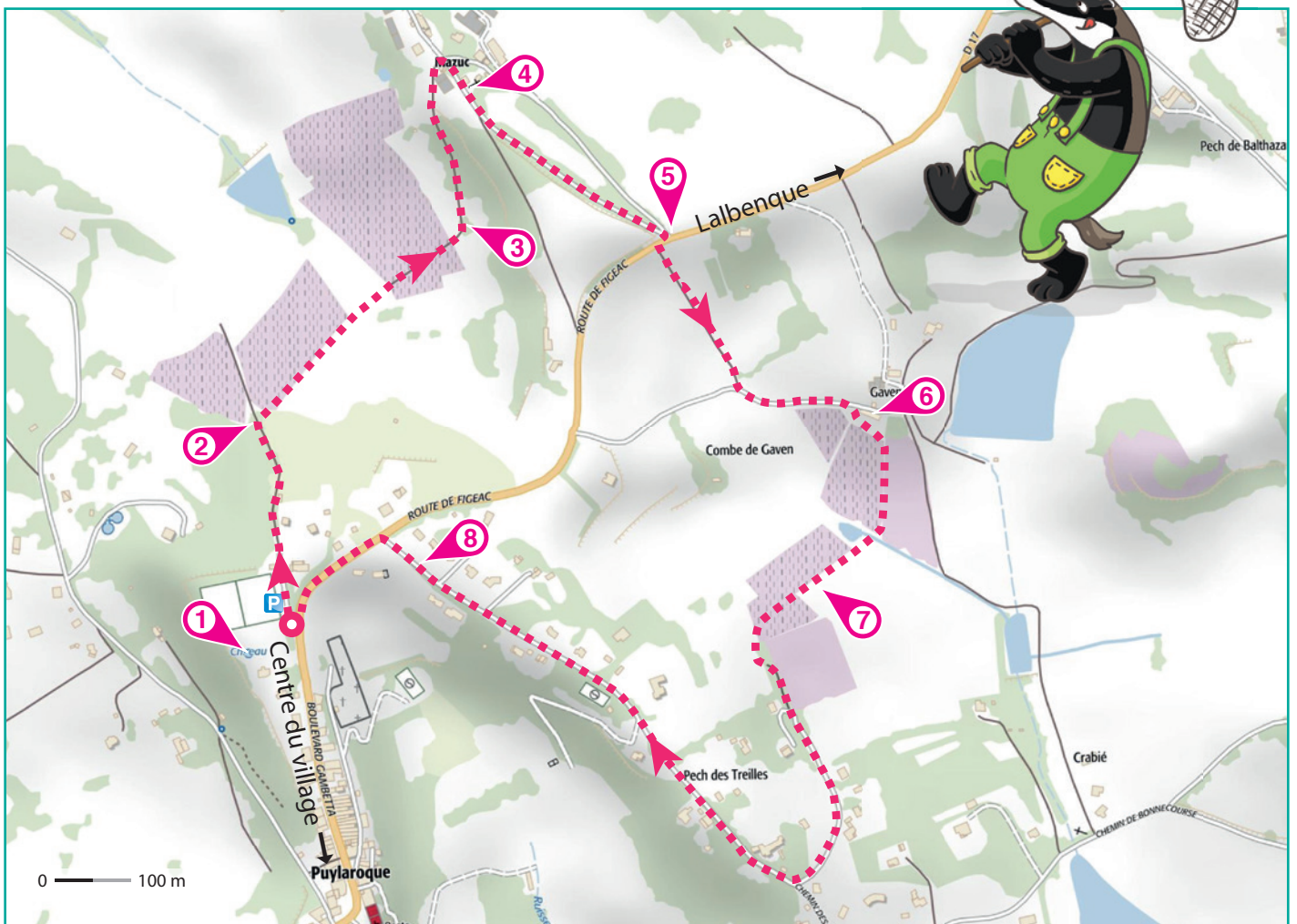
\* Le cépage est un type de plants de vignes.



Tu disposes du plan ci-dessous.

À l'emplacement des pastilles numérotées, lis les indications qui te permettront de résoudre l'énigme principale.

À la fin de ta balade, rends-toi à l'Office de Tourisme ou sur le site [randoland.fr](http://randoland.fr) pour vérifier ta réponse.









# Puylaroque

## ÉNIGME

**M**athéo est allé à Puylaroque avec ses parents l'été dernier et se souvient avoir beaucoup aimé ce village. Durant sa visite il avait fait une petite randonnée qui lui avait permis de rencontrer un vigneron. Ce dernier lui avait expliqué qu'il faisait son vin, du Coteaux du Quercy, en associant cinq cépages différents : du Cabernet Franc, du Merlot, du Tannat, du Gamay, mais impossible de se souvenir du dernier cépage. Avec l'aide de l'inspecteur Rando sauras-tu retrouver le cinquième cépage que cultive le vigneron ?



## LISTES DES CÉPAGES



### ALIGOTÉ

CÉPAGE : Blanc  
FAMILLE : Gouais  
HECTARES EN FRANCE : 1 000



### CABERNET FRANC

CÉPAGE : Noir  
FAMILLE : Carmenets  
HECTARES EN FRANCE : 36 000



### MALBEC

CÉPAGE : Noir  
FAMILLE : Cotoïdes  
HECTARES EN FRANCE : 5 300



### MERLOT

CÉPAGE : Noir  
FAMILLE : Carmenets  
HECTARES EN FRANCE : 100 000



### TANNAT

CÉPAGE : Noir  
FAMILLE : Cotoïdes  
HECTARES EN FRANCE : 3 000



### GAMAY

CÉPAGE : Noir  
FAMILLE : Noiriens  
HECTARES EN FRANCE : 30 000



### FOLLE BLANCHE

CÉPAGE : Blanc  
FAMILLE : Folloïdes  
HECTARES EN FRANCE : 3 300



### GEWURZTRAMINER

CÉPAGE : Rosé  
FAMILLE : Traminers  
HECTARES EN FRANCE : 2 500



### SYRAH

CÉPAGE : Noir  
FAMILLE : Sérines  
HECTARES EN FRANCE : 68 000



Tu disposes du plan ci-contre. À l'emplacement des pastilles numérotées, lis les indications qui te permettront de résoudre l'énigme principale. À la fin de ta balade, rends-toi à l'Office de Tourisme ou sur le site [randoland.fr](http://randoland.fr) pour vérifier ta réponse.







Lors du passage devant chacun des indices lis attentivement les indications fournies. Elles te permettront de résoudre l'énigme posée au verso de cette page.

### 1 Le château d'eau

Trouve l'année présente sur la plaque du château d'eau. Fais la somme du chiffre des milliers, des centaines et des unités, puis ajoute 1 à ton résultat. Quelle lettre dans l'alphabet correspond à ta réponse ?

Ex.: 1932 → 1 + 9 + 2 = 12 → 12 + 1 = 13 → M

Un seul des cépages a son initiale identique à ta réponse. Malheureusement ce n'est pas lui que tu recherches, tu peux le rayer de ta liste !

### 2 La plantation

Quelle est la valeur du fruit qui pousse dans cette plantation sachant que les voyelles valent +17 et les consonnes -5 ?

Ex.: POMME: -5 + 17 -5 -5 + 17 = 19

Le nombre d'hectares plantés en France d'un seul des cépages commence par ton résultat. Ce n'est toujours pas lui que tu recherches !

### 3 L'arbre fruitier

Comment s'appelle l'arbre fruitier à droite juste après la barrière ?

Pour t'aider, trouve son fruit et s'il n'y en pas dans l'arbre, regarde au sol.

Chataignier

Noyer

Poirier

CARMENETS

SÉRINES

COTOÏDES

La famille d'un seul des cépages est notée sous la bonne réponse, mais ce n'est toujours pas lui que tu recherches ! Supprime-le de ta liste.

### 4 La croix

Parmi les trois photos ci-dessous laquelle représente la croix devant toi ?



100 000



1 000



30 000

Le nombre d'hectares plantés en France d'un seul des cépages est égal au nombre inscrit sous la bonne photo. Ce n'est toujours pas le cépage que tu recherches !

### 5 La bouteille

Observe la bouteille. Quel est le nom du domaine noté sur cette dernière ?

Un seul des cépages comporte quatre des lettres du nom de domaine. Barre-le de ta liste !

### 6 La maison

Laquelle des trois photos ci-dessous n'a pas été retouchée ?



GOUAIS

FOLLOÏDES

NOIRIENS

La famille d'un seul des cépages est notée sous la bonne photo. Ce n'est toujours pas le cépage recherché ! Raye-le de ta liste !



### 7 La plantation

Deux amis discutent des plantations autour de toi :

NICOLAS : Ce sont des poiriers tout autour de nous !

BASTIEN : Mais non pas du tout, ce sont des ceps de vignes !

Une seule couleur de cépage commence par l'initiale de celui qui dit la vérité. Ce n'est toujours pas ce cépage que tu recherches !

### 8 Le point de vue

Qui des trois amis a pris en photo le panorama devant toi ?



BORIS



ADRIEL



WILLIAM

Le nom d'un seul cépage comporte le même nombre de lettres que celui qui a pris la bonne photo. Ce n'est toujours pas le cépage recherché, barre-le de ta liste !

Tu devrais avoir retrouvé le nom du cépage recherché.

Circuit n° 8214801G

Ta réponse: .....